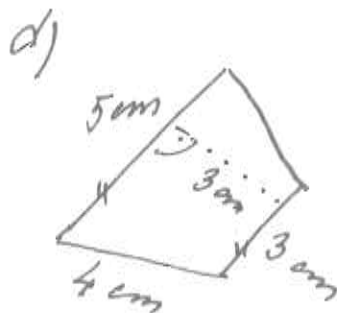
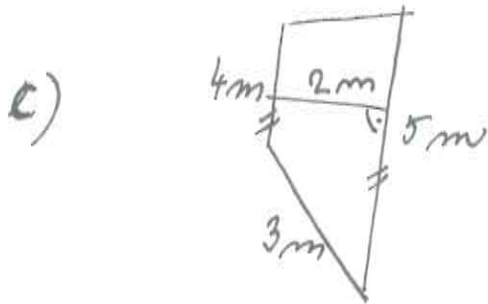
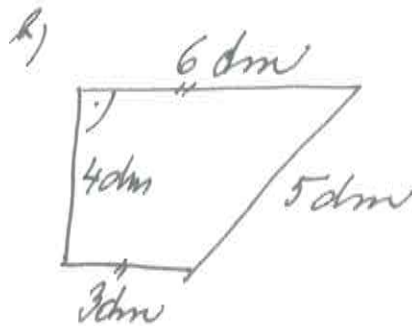
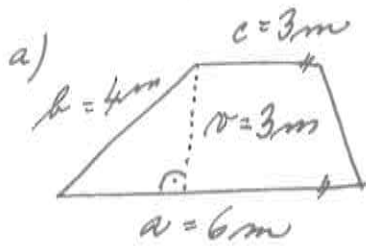


12. DĚÍ pro 8. ročník

1) Vypočítej obsah lichoběžníku podle údajů z obrázku:



2) Vypočítej obsah lichoběžníku ABCD, ve kterém

a) $a = 7\text{ m}$; $c = 4\text{ m}$; $r = 0,6\text{ m}$

b) $a = 2,3\text{ dm}$, $c = 2,2\text{ dm}$; $r = 1\text{ dm}$

c) $a = 18\text{ cm}$, $b = 24\text{ cm}$, $c = 32\text{ cm}$; $|\angle ABC| = 90^\circ$

Učebnice 1. díl

str. 27 / cv. 1 a) b)